

CIVILIZACIONES PRECLÁSICAS Y CLÁSICAS (2500 a.C – 476 d.C)

Objetivo de La Clase : Conocer a nivel general las
Civilizaciones Preclásicas y Clásicas

CENTRO DE EDUCACIÓN
INTEGRAL DE ADULTOS



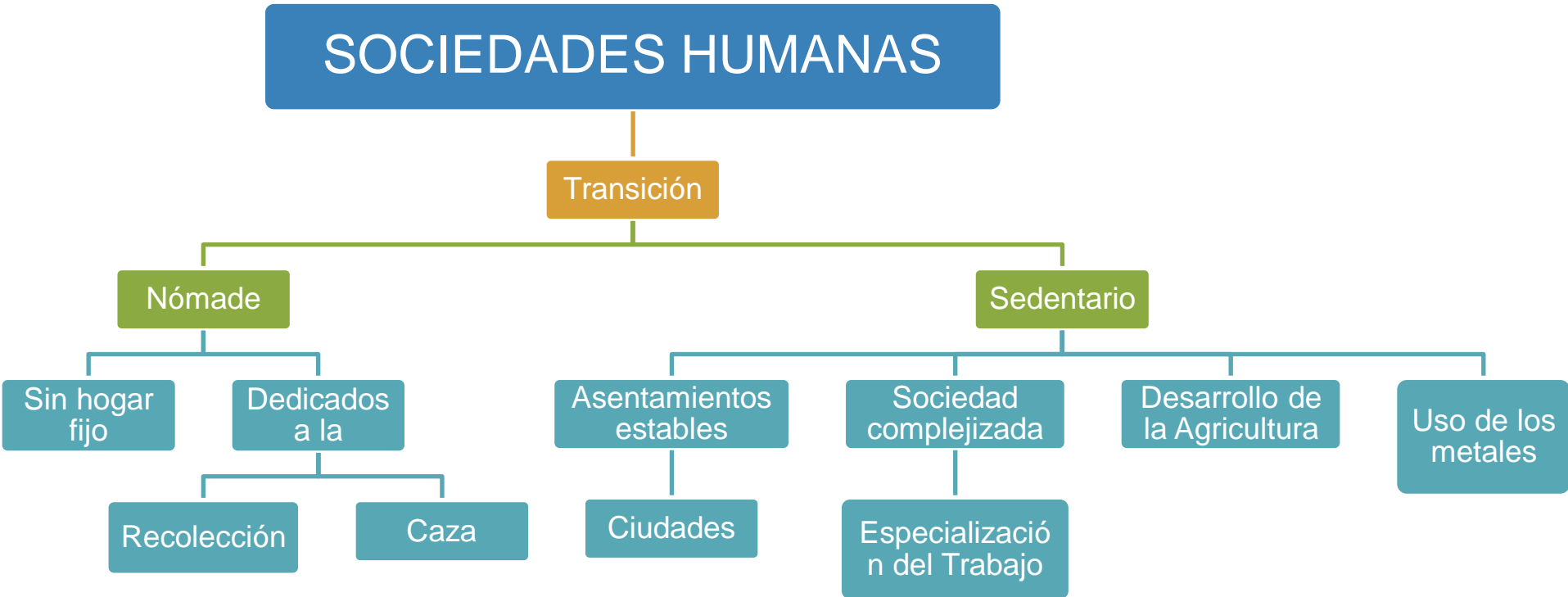
EDUCACIÓN BÁSICA Y MEDIA
PARA JOVENES Y ADULTOS




Nombre del Docente : Sebastián Alvarado A. / Equipo PIE
Curso : 1º Nivel Medio
Jornada : Mañana – Tarde
Email : profesoralvarado@ceiaept.cl
pie@ceiaept.cl

Semana : 1
Fecha : Marzo

Sobre las primeras sociedades humanas:



Sociedad Nómada: Se caracteriza por no tener un hogar fijo y moverse siguiendo sus presas y vegetales y frutos para sobrevivir.



Sociedad Sedentaria: Se caracteriza por habitar un territorio en forma estable, esto gracias al desarrollo de la agricultura y la domesticación de especies.



CIVILIZACIONES PRECLÁSICAS

¿QUÉ SON?

Son aquellas previas al auge de las civilizaciones griega y romana

Previas a la invención de la HISTORIA como disciplina

¿DÓNDE SE UBICAN?

En las riberas de los rios

¿CÚALES SON?

China

India

Mesopotamia

Egipto

**CIVILIZACIONES
PRECLÁSICAS**

CIVILIZACIÓN CHINA



CHINA

Surge a la orilla
del río Amarillo



Desarrollo
tecnológico

Sociedad urbana

Culto al
emperador

Conocimiento

Pólvora

Brújula

Papel

Ser divino y el
centro del mundo

Filosofía oriental

En verde se observa el origen de la civilización china, destacando además del río Amarillo (Huang He) el río Yang-Tsé.

CIVILIZACIÓN INDIA

INDIA

Surge en la ribera del río Indo



En rojo se muestra el lugar de origen de la civilización india

Religiosidad

Hinduismo

Politeísmo

Zoomorfo y Antropomórficos

Social

Sistema de Castas

Inmóviles

Sociedades urbanas



Ganesh (Ganesha) es uno de los tantos dioses que existen en el panteón del Hinduismo, considerado patrón de las artes, la ciencia y la abundancia⁶

CIVILIZACIÓN MESOPOTÁMICA

MESOPOTAMIA



Existieron variadas civilizaciones

Babilonia

Más reconocida

Sumerios

Actual Iraq

Entre los ríos

Tigris

Eúfrates

Desarrollo

Arquitectura

Zigurats

Jardines colgantes

Derecho

Código de Hamurabbi

El mapa presenta el desarrollo territorial de la civilización Sumeria y los imperios Babilónico y Asirio.

CIVILIZACIÓN EGIPCIA

Se ubica en la ribera del río Nilo

EGIPTO



Religiosidad

Politeísta
Zoomórfica

Arquitectura

Pirámides

Agricultura

Barbecho

Conocimiento

Matemática

Astronomía

MUNDO GRIEGO

MUNDO GRIEGO

Ubicación geográfica

Península de los Balcanes

Fases principales

ETAPA PRECLÁSICA

Edad Minóica

Isla de Creta

Edad Micénica

Ciudad de Micenas

Edad Oscura

Llegada de los Dorios

Surgen las Polis

Edad Arcaica

Época de reformadores

Gran Colonización

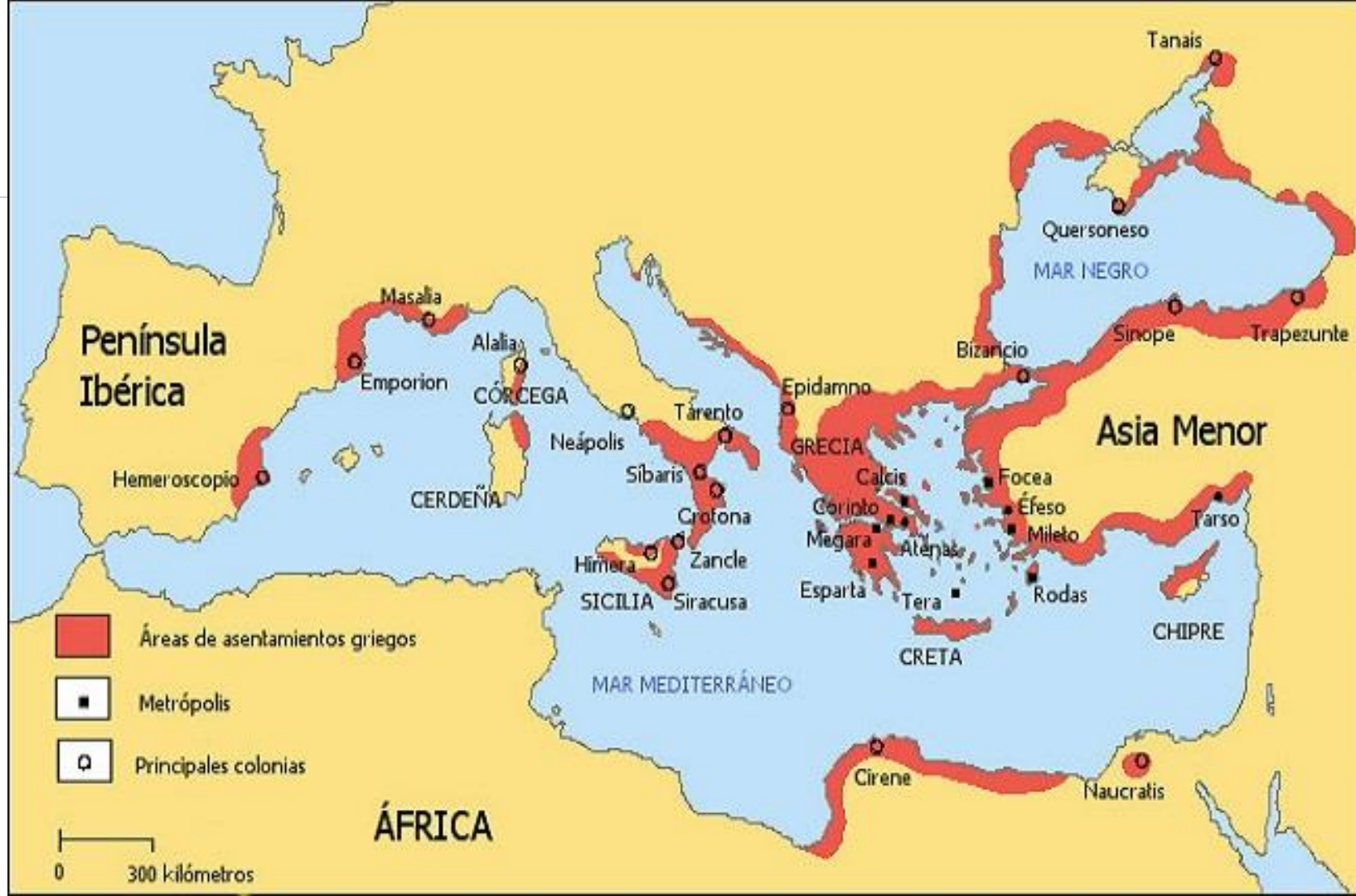
ETAPA CLÁSICA

Atenas

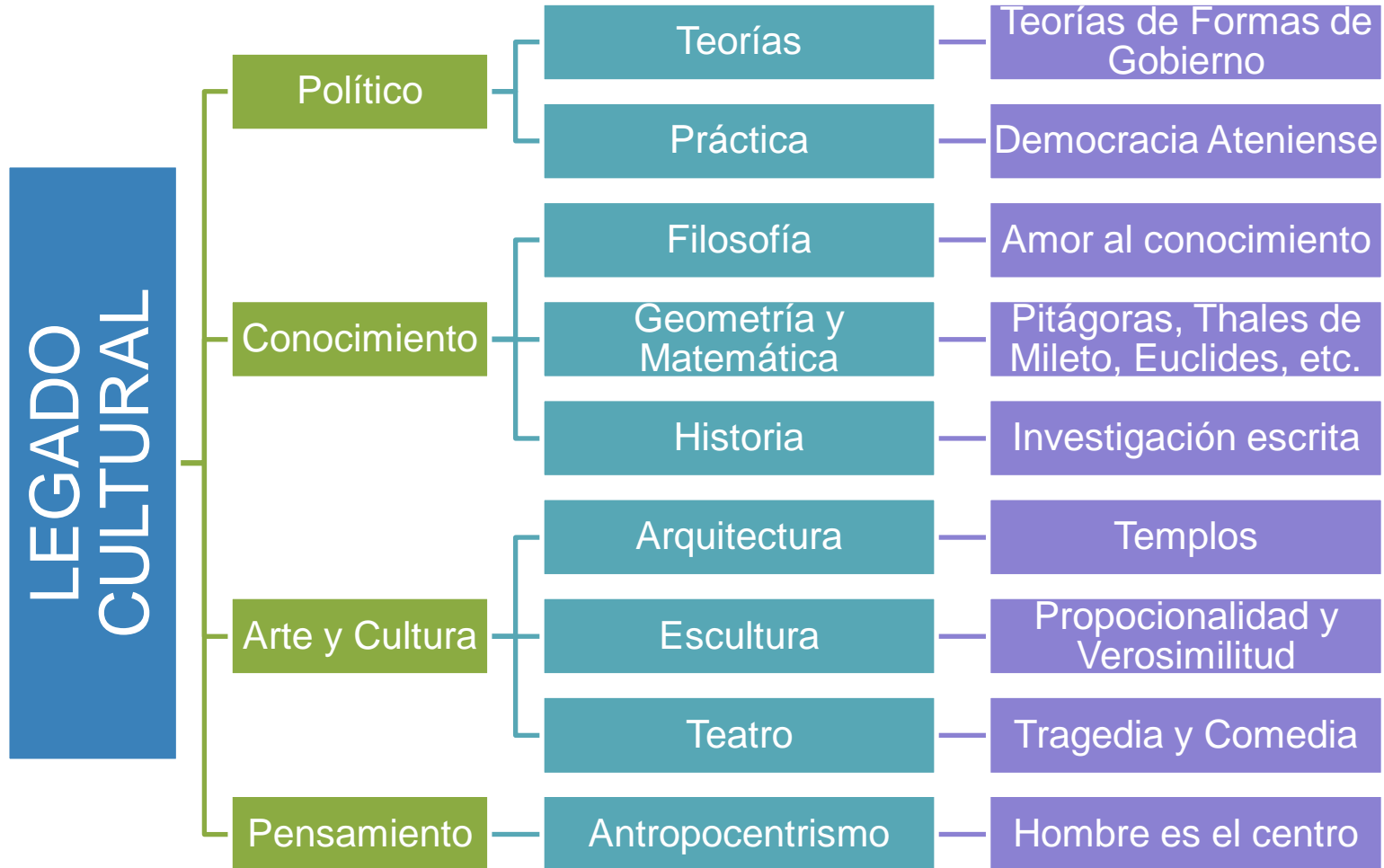
Democracia

ETAPA HELENÍSTICA

Imperio Macedonio



EJEMPLOS DEL LEGADO CULTURAL GRIEGO

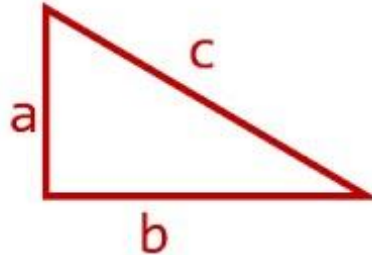


Laoconte y sus hijos, escultura realizada por Atenodoro, Polidoro y Agesandro.



El famoso Teorema de Pitágoras es otro ejemplo del legado cultural que nos dejó la civilización griega

Teorema de Pitágoras

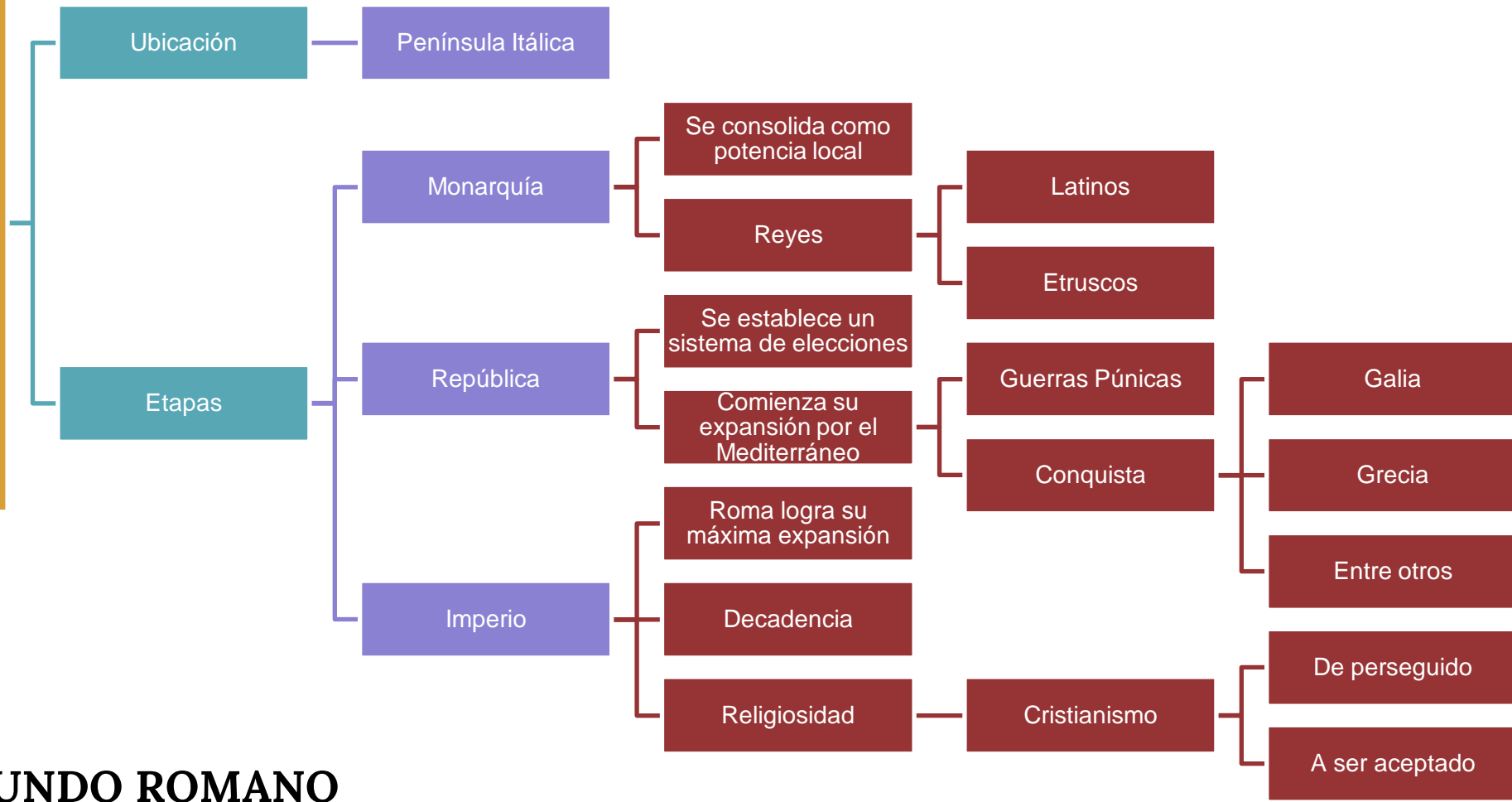


$$c = \sqrt{a^2 + b^2}$$

$$a = \sqrt{c^2 - b^2}$$

$$b = \sqrt{c^2 - a^2}$$

MUNDO ROMANO



MUNDO ROMANO



LEGADO CULTURAL ROMANO

LEGADO ROMANO

Institucionalidad

Sistema de Magistraturas

Base de las usadas en Occidente

Derecho

Sociedad construida en base a este.

Religiosidad

Cristianismo expandido por el territorio

Lenguaje

Latín se convierte en una lenguaje "universal"



Imagen del Buen Pastor, catacumbas de Priscila (250-300 d.C) Roma.

EN SÍNTESIS



- ◎ Civilizaciones preclásicas:
 - Cambio de nómada a sedentario
 - Civilizaciones
 - China
 - Mesopotámica
 - India
 - Egipto
- ◎ Civilizaciones clásicas
 - Grecia y Roma
 - Descripción general
 - Legado

GUÍA DE TRABAJO: CIVILIZACIONES PRECLÁSICAS Y CLÁSICAS

NOMBRE		NIVEL	1º Nivel Medio
FECHA		JORNADA	Mañana - Tarde
OBJETIVO	Conocer los principales hitos que dan forma a la Edad Antigua		

- A partir de los contenidos vistos responda las preguntas:

I. Complete el siguiente CUADRO COMPARANDO las sociedades NÓMADES Y SEDENTARIAS.

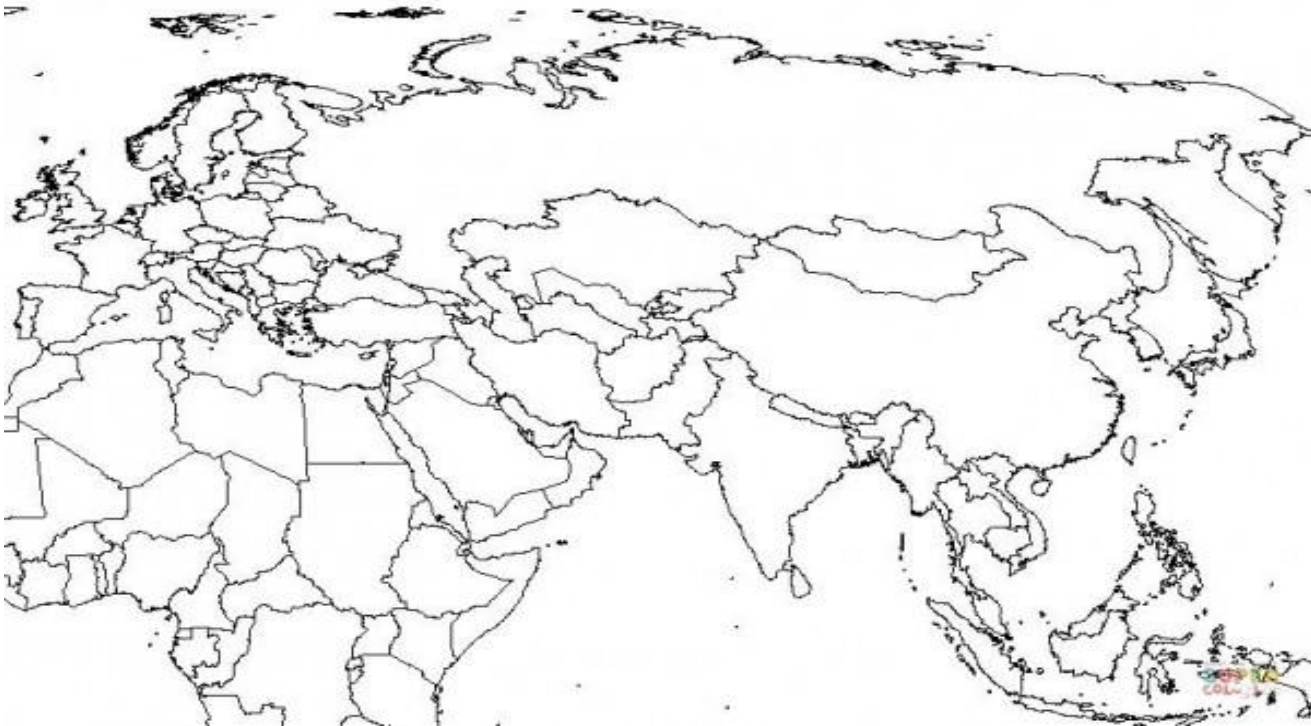
Civilizaciones Nómadas	Civilizaciones Sedentarios

II. Complete el siguiente cuadro referido a las CUATRO CIVILIZACIONES PRECLÁSICAS:

Civilizaciones	Río cercano	Continente	Elementos destacados
China			
India			
Egipto			
Mesopotamia			

III. Ubique en el mapa los siguientes lugares:

Civilización Mesopotámica	Civilización china	Civilización india	Civilización egipcia	Río Tigris	Río Éufrates	Mar Mediterráneo
Mar Negro	Península Ibérica	Península Itálica	Península Balcánica	Río Nilo	Río Amarillo	Río Indo
Atenas	Roma	Mar Negro	Cartago	Jerusalén	Creta	Río Danubio



IV. **PREGUNTA ESENCIAL:** Complete el cuadro indicando los LEGADOS CULTURALES dejados por el MUNDO GRIEGO Y ROMANO

Mundo Griego	Mundo Romano